

CARGOS	
AUXILIAR DE SERVIÇOS GERAIS	OFICIAL DE OBRAS E SERVIÇOS
AGENTE DE VIGILÂNCIA	OPERADOR DE MÁQUINAS LEVES
AUXILIAR DE MECÂNICO	OPERADOR DE MÁQUINAS PESADAS
AUXILIAR DE OBRAS E SERVIÇOS	OPERADOR DE USINA DE ASFALTO
BORRACHEIRO	PEDREIRO
COVEIRO	SERVENTE DE PEDREIRO
ENCANADOR	PINTOR
MOTORISTA DE VEÍCULOS LEVES	PORTEIRO
MOTORISTA DE VEÍCULOS PESADOS	SOLDADOR

10/01/2016

**SÓ ABRA ESTE CADERNO QUANDO AUTORIZADO  
LEIA ATENTAMENTE AS INSTRUÇÕES**

1. Quando for permitido abrir o caderno, verifique se ele está completo ou se apresenta imperfeições gráficas que possam gerar dúvidas. Se houver algum defeito dessa natureza, peça ao aplicador de prova para entregar-lhe outro exemplar.
2. Este caderno contém 30 questões objetivas. Cada questão apresenta quatro alternativas de resposta, das quais apenas uma é a correta. Preencha no cartão-resposta a letra correspondente à resposta assinalada na prova.
3. O cartão-resposta é personalizado e não será substituído, em caso de erro, durante o seu preenchimento. Ao recebê-lo, verifique se seus dados estão impressos corretamente; se for constatado algum erro, notifique ao aplicador de prova.
4. No cartão-resposta, as respostas devem ser marcadas com caneta esferográfica de tinta na cor PRETA ou AZUL e fabricada em material transparente, preenchendo-se integralmente o alvéolo, rigorosamente dentro dos seus limites e sem rasuras.
5. Esta prova tem a duração de **quatro horas**, incluindo o tempo destinado à coleta de impressão digital, à leitura das instruções e à transcrição das respostas para o cartão-resposta.
6. Você só poderá retirar-se definitivamente da sala e do prédio após terem decorridas **duas horas** de prova, e somente será permitido levar o caderno de prova a partir das 17 horas, desde que permaneça na sala até esse horário.
7. Quando apenas três candidatos permanecerem na sala para terminar a prova, estes deverão aguardar até que o último a entregue e terão seus nomes registrados em Relatório de Sala, no qual aporão suas respectivas assinaturas.
8. AO TERMINAR, DEVOLVA O CARTÃO-RESPOSTA AO APLICADOR DE PROVA.


Leia o Texto 1 para responder às questões de 1 a 4.

### Texto 1

## AVISO

**EM VIRTUDE DA REESTRUTURAÇÃO DO SETOR DE MEDICINA DO TRABALHO, INFORMAMOS QUE O ATENDIMENTO AO PÚBLICO EXTERNO ESTÁ TEMPORARIAMENTE SUSPENSO, ATENDENDO APENAS OS COLABORADORES DO SESC E SENAC, ÀS SEGUNDAS, QUARTAS, QUINTAS E SEXTAS.**

**AGRADECEMOS A COMPREENSÃO DE TODOS.**



Disponível em: <<http://fecomercio-se.com.br/noticias/aviso-aos-comerciantes>>. Acesso em: 20 set. 2015.

### — QUESTÃO 01 —

O Texto 1 é um aviso e tem o objetivo de informar sobre

- (A) campanhas de saúde preventiva.
- (B) problemas no setor de segurança.
- (C) suspensão do atendimento médico.
- (D) atenção aos horários de atendimento.

### — QUESTÃO 02 —

A ocorrência informada no aviso será

- (A) passageira.
- (B) indeterminada.
- (C) imprecisa.
- (D) aleatória.

### — QUESTÃO 03 —

O aviso é destinado a grupos especificados na mensagem. Esses grupos são:

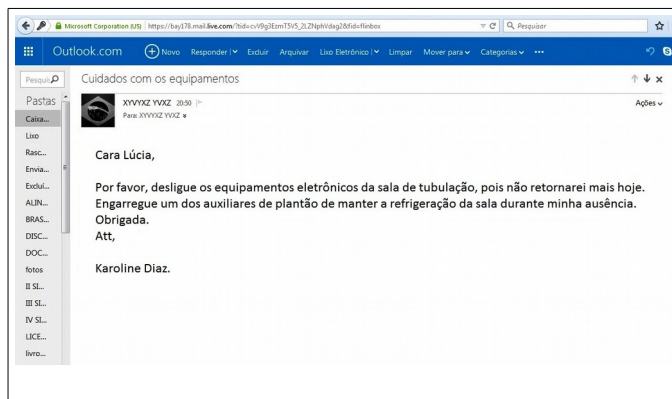
- (A) os visitantes e os servidores.
- (B) o diretor e as secretárias.
- (C) o público externo e os colaboradores.
- (D) o médico e as enfermeiras.

### — QUESTÃO 04 —

O atendimento aos servidores do SESC e SENAC está suspenso somente

- (A) aos domingos.
- (B) às quartas-feiras.
- (C) aos sábados.
- (D) às terças-feiras.

Leia o Texto 2 para responder às questões de 5 a 7.



E-mail. Elaboração própria da banca.

### — QUESTÃO 05 —

O e-mail também é uma forma de trocar recados e avisos, dentre outros. A solicitação feita na mensagem do Texto 2 contém

- (A) instruções de trabalho.
- (B) mensagens de encorajamento.
- (C) recados pessoais entre colegas.
- (D) autorizações de encerramento de turnos.

### — QUESTÃO 06 —

A mensagem do Texto 2, além da solicitação explícita, contém o aviso de que

- (A) o expediente está encerrado para todos.
- (B) a encarregada da seção está dispensada.
- (C) a emitente da mensagem retornará ao local de trabalho no dia seguinte.
- (D) o auxiliar de plantão comparecerá mais tarde para desligar os equipamentos.

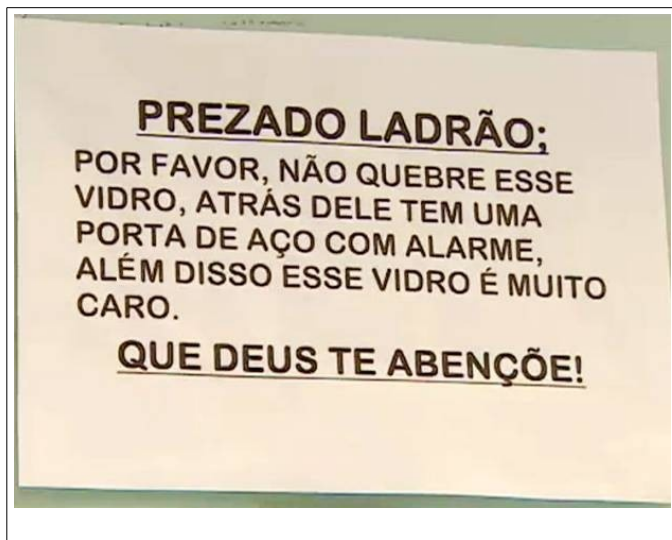
### — QUESTÃO 07 —

Há na mensagem uma voz de comando expressa pelo

- (A) tratamento “Cara Lúcia”.
- (B) verbo “encarregar” no imperativo.
- (C) encerramento “Att”.
- (D) agradecimento “obrigada”.

Leia o Texto 3 para responder às questões 8 e 9.

### Texto 3



Disponível em: <<http://g1.globo.com/sp/vale-do-paraiba-regiao/noticia/2014/04/apos-assaltos-comerciante-faz-cartaz-com-recado-para-bandido-em-jacarei.html>>. Acesso em: 15 set. 2015.

### — QUESTÃO 08 —

No Texto 3, há um sinal de pontuação empregado em desacordo com a regra padrão de pontuação em português. Trata-se

- (A) do ponto e vírgula.
- (B) do ponto final.
- (C) da vírgula.
- (D) da exclamação.


### — QUESTÃO 09 —

No Texto 3, há uma palavra acentuada fora das regras de acentuação do português. A palavra e o acento são:

- (A) “atrás” – grave.
- (B) “é” – agudo.
- (C) “abenção” – til.
- (D) “ladrão” – circunflexo.

Leia o Texto 4 para responder à questão 10.

### Texto 4



Disponível em: <<http://deposito-de-tirinhas.tumblr.com/page/5>>. Acesso em: 15 set. 2015.

### — QUESTÃO 10 —

Na tirinha, a palavra “REDUZA”, nas placas de sinalização de trânsito, gera quebra de expectativa, devido ao seu emprego como:

- (A) advérbio.
- (B) nome.
- (C) pronome.
- (D) preposição.

**— QUESTÃO 11**

As figuras a seguir são de uma fatia de pizza, de uma bandeja, de um porta-joias e de um copo.



Cada um desses objetos foi colocado, na sua posição de uso, em cima de uma folha de papel, em uma mesa plana. Com uma caneta fez-se o contorno de cada um deles. Dentre esses contornos, o que tem a forma de um polígono é

- (A) o porta-joias.
- (B) a bandeja.
- (C) a fatia de pizza.
- (D) o copo.

**— QUESTÃO 12**

Para ir de casa até seu trabalho, um trabalhador sempre passa pelo centro da cidade. De sua casa até o centro, ele pode ir a pé, de ônibus ou de táxi. Do centro da cidade até seu trabalho, ele pode ir de metrô ou pode tomar outro ônibus. Considerando essas informações, a quantidade de maneiras diferentes que o trabalhador pode utilizar para ir de sua casa até seu trabalho, passando pelo centro, é

- (A) 3
- (B) 4
- (C) 5
- (D) 6

**— QUESTÃO 13**

O preço do litro da gasolina no “Posto Tanque cheio” é R\$ 3,19. No “Posto da Ponte”, o litro da gasolina custa R\$ 0,48 a menos. Assim, o preço do litro da gasolina no “Posto da Ponte”, em reais, é:

- (A) 2,29
- (B) 2,71
- (C) 3,31
- (D) 3,67

**— QUESTÃO 14**

A tabela a seguir apresenta o índice de rendimento mensal de certa aplicação financeira, em porcentagem.

Meses	Índice (%)
Março	0,68
Abril	0,068
Mai	0,86
Junho	0,608

Colocando em ordem crescente os meses de acordo com os seus índices de rendimento, obtém-se a seguinte sequência:

- (A) março, maio, abril e junho.
- (B) maio, março, junho e abril.
- (C) abril, junho, março e maio.
- (D) junho, abril, maio e março.

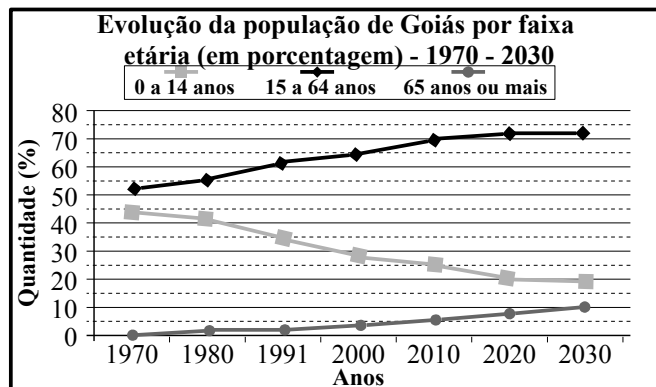
**— QUESTÃO 15**

Segundo reportagem do jornal “O Popular”, “De cada 10 mortos no trânsito em Goiás, quatro têm menos de 30 anos.” (19 set. 2015). A fração que representa a quantidade de mortos com menos de 30 anos é:

- (A)  $\frac{10}{30}$
- (B)  $\frac{2}{5}$
- (C)  $\frac{3}{5}$
- (D)  $\frac{10}{4}$

**— QUESTÃO 16 —**

O gráfico a seguir mostra a evolução da população do estado de Goiás e a projeção do IBGE até o ano de 2030, em porcentagem, por faixa etária da população.



Disponível em: <<http://www.imb.go.gov.br/>>. Acesso em 26 ago 2015.

De acordo com o gráfico, a projeção para o ano de 2030 indica que, em Goiás, a população

- (A) total do estado será aproximadamente igual à população total em 1980.
- (B) de 65 anos ou mais será aproximadamente igual à metade da população de 15 a 64 anos.
- (C) de 15 a 64 anos será aproximadamente igual à soma das outras duas populações juntas.
- (D) de 0 a 14 anos será aproximadamente o dobro da população com 65 anos ou mais.

**— QUESTÃO 17 —**

Leia o texto a seguir.

Segundo a revista Forbes, o patrimônio de um banqueiro passou de R\$ 49,85 bilhões para R\$ 83,69 bilhões em doze meses.

Disponível em: <<http://economia.uol.com.br/noticias/redacao/2015/09/01/mais-rico-do-brasil-dono-da-ambev-ganha-r-386-mi-por-hora-em-um-ano.htm>>. Acesso em 15 set. 2015. (Adaptado).

De acordo com o texto, o patrimônio desse banqueiro aumentou, em bilhões de reais, em

- (A) 33,84
- (B) 46,24
- (C) 49,85
- (D) 83,64

**— QUESTÃO 18 —**

Uma embalagem contém 2 litros de suco e todo seu conteúdo será distribuído em copos de 300 mL cada, para serem servidos em uma festa. Nessas condições, para servir todo o suco, a quantidade mínima de copos deve ser:

- (A) 5
- (B) 6
- (C) 7
- (D) 8

**— QUESTÃO 19 —**

O caixa eletrônico de uma agência bancária contém apenas cédulas de 50 e de 100 reais. Nesse caixa, é possível sacar, de uma só vez, a seguinte quantia em reais:

- (A) 830
- (B) 840
- (C) 850
- (D) 860

**— QUESTÃO 20 —**

Um catador de latas de alumínio conseguiu juntar certa quantidade de latas e as vendeu a uma empresa de reciclagem por R\$ 5,67. Considere que a empresa pagou R\$ 3,50 pelo quilo das latas de alumínio. Nessas condições, quantos quilos de latas foram vendidos pelo catador?

- (A) 1,06
- (B) 1,62
- (C) 10,2
- (D) 16,2

**— QUESTÃO 21**

Leia o texto a seguir.

“No período da mineração, em Caldas Novas, em especial na primeira metade do século XIX, as relações de trabalho não envolviam a venda da força de trabalho, mas a apropriação de um outro ser humano, na base da força e da violência.”

MACHADO, Maria Conceição Sarmento Padial. Capital e trabalho no processo de urbanização. *Fragments de cultura*, Goiânia, v. 16, n. 11/12, p. 919-939, nov./dez. 2006, p. 919.

O tipo de trabalho referido no texto é

- (A) servil.
- (B) escravo.
- (C) voluntário
- (D) assalariado.

**— QUESTÃO 22**

O território brasileiro apresenta diferentes tipos de clima. No Estado de Goiás, o clima predominante é

- (A) tropical.
- (B) subtropical.
- (C) semiárido.
- (D) equatorial.

**— QUESTÃO 23**

Atualmente, existem apenas três aldeias indígenas no território goiano. Essa situação é resultado da colonização de Goiás, que

- (A) pacificou os índios e os integrou na sociedade não indígena.
- (B) ignorou e desprezou a presença dos índios.
- (C) assimilou e adotou os costumes dos índios.
- (D) maltratou e dizimou os índios da região.

**— QUESTÃO 24**

São plantas típicas do Cerrado:

- (A) o buritizeiro, a guariroba e a lobeira.
- (B) o pinhão, a pororoca e a pitangueira.
- (C) o bacuri, a araucária e o mangue-formiga
- (D) o manacá da serra, a amendoeira e o mandacaru.

**— QUESTÃO 25**

São animais típicos do Cerrado:

- (A) a onça parda, o veado catingueiro e o tatu-peba.
- (B) a cutia, a jaguatirica e o mico-leão-dourado.
- (C) a onça pintada, o lobo-guará e o veado campeiro.
- (D) o porco do mato, o quati e o gato dos pampas.

**— QUESTÃO 26**

A região sul do Estado de Goiás faz fronteira com o Estado de Minas Gerais. Nesta região, estes dois estados são separados pelo rio

- (A) Piracanjuba.
- (B) Corumbá.
- (C) Meia Ponte.
- (D) Paranaíba.

**— QUESTÃO 27**

A coleta e o descarte adequados do lixo, a manutenção adequada de caixas d'água e de piscinas, a limpeza de calhas são atitudes simples de cuidados com o ambiente urbano, tanto do poder público como dos cidadãos, que podem diminuir em Goiás os riscos de epidemia de

- (A) raiva canina.
- (B) dengue.
- (C) leptospirose.
- (D) meningite.

**— QUESTÃO 28**

Na última eleição presidencial do Brasil, o candidato Aécio Neves que disputou o segundo turno com a presidente eleita, Dilma Rousseff, do PT, pertence ao seguinte partido:

- (A) PDT
- (B) PV
- (C) PSoI
- (D) PSDB

**— QUESTÃO 29**

A culinária goiana é o resultado da junção de hábitos alimentares de índios, escravos africanos e colonizadores europeus. Os ingredientes indígenas que compõem a alimentação do goiano são:

- (A) arroz, feijão e linguiça.
- (B) milho, mandioca e peixe.
- (C) trigo, cebola e carne de boi.
- (A) açúcar, galinha e queijo.

**— QUESTÃO 30 —**

Para que a população brasileira tenha cada vez mais acesso às informações no mundo globalizado, é importante a participação do poder público na implementação de programas de

- (A) intercâmbios comerciais.
- (B) documentários educativos.
- (C) inclusão digital.
- (D) integração desportiva.